

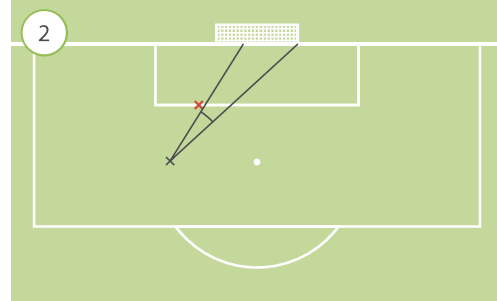
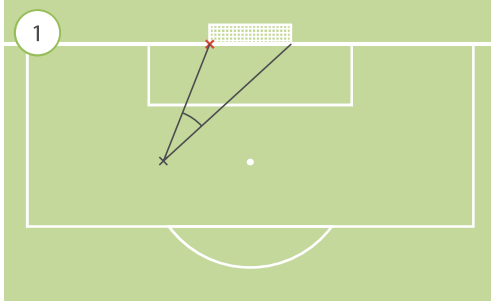


Name _____

Klasse _____

Datum _____

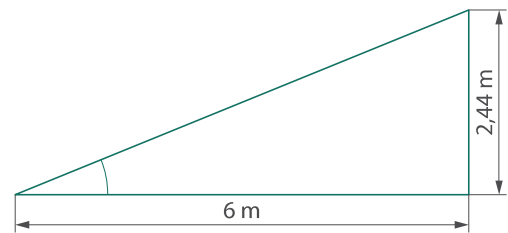
- 1 Ein Spieler will auf das Tor schießen. Der Torwart steht neben dem Pfosten. Er kann auf der Torlinie bleiben (Graphik ①) oder zum Spieler laufen (Graphik ②).



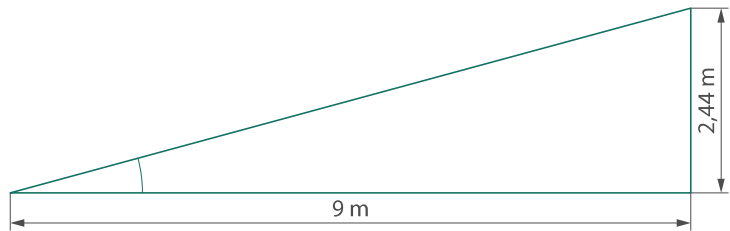
- a) Wenn der Torwart herausläuft, dann wird der Winkel für den Spieler _____
- b) Wenn der Torwart herausläuft, dann könnte der Spieler Folgendes tun:

- 2 Eine Spielerin schießt aus verschiedenen Entfernungen auf das Tor. Das Tor ist 2,44 m hoch. Ab welchem Winkel schießt sie über das Tor? Miss nach.

- a) Winkel _____



- b) Winkel _____



- c) Winkel _____

